

**Демонстрационный вариант
Математика (стартовая работа)
3 класс**

Продолжительность работы: 30 минут

- 1** Ученик раскрашивает клетки по определённому правилу. Сколько клеток он раскрасит на четвёртом рисунке?

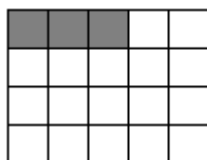


Рисунок 1




Рисунок 2




Рисунок 3




Рисунок 4

Ответ: _____ к.

В ответ запиши только число.

- 2** Расставь величины в порядке возрастания.
Для этого размести карточки в соответствующем порядке.

5 дм

1 дм 4 см

2 дм 3 см

8 см

- 3** Все эти чашки нужно расставить поровну на четырёх столах.



Сколько чашек нужно поставить на каждый стол?

Ответ: _____ ч.

В ответ запиши только число.

- 4** Рассмотрю таблицу посещения музея в понедельник и во вторник.

Время посещения	Понедельник	Вторник
утро	10 человек	25 человек
день	20 человек	19 человек
вечер	37 человек	41 человек

На сколько человек больше посетили музей вечером, чем утром, за эти два дня?

Ответ: на _____ чел.

В ответ запиши только число.

5 Укажи все числовые выражения, значения которых равны 2.

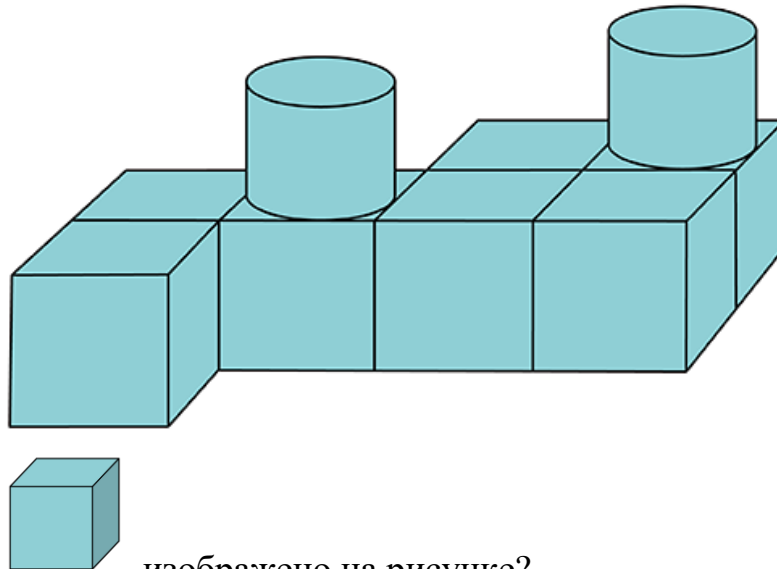
- 1) $14 : 7 + 4$
- 2) $51 - 49$
- 3) $10 \cdot 4 - 38$
- 4) $100 - 33 - 60$
- 5) $29 + 10 - 26$

6 Мама испекла 35 пирожков. Из них с вишней – 10 пирожков, с яблоками – 12 пирожков, а остальные пирожки – с грибами. Сколько пирожков с грибами испекла мама?

Ответ: _____ п.

В ответ запиши только число.

7 Рассмотрите рисунок.



Сколько таких фигур  изображено на рисунке?

Ответ: _____ ф.

В ответ запиши только число.

Ответы

№ задания	Ответ
1	15
2	<input type="checkbox"/> 8 см <input type="checkbox"/> 1 дм 4 см <input type="checkbox"/> 2 дм 3 см <input type="checkbox"/> 5 дм
3	5
4	43
5	23
6	13
7	7